

Gwasanaeth Tân ac Achub
De Cymru



South Wales
Fire and Rescue Service



CADWCH YN DDIOGEL

CHI BIAU'R DEWIS





NEWYDDION BRYG



MAE TÂN YN SYDYN, MAE TÂN YN BOETH
A THYWYLL, AC MAE TÂN YN BERYGLUS!

Y ffordd orau i reoli tân yw i beidio â chynnau un byth.
Mae atal tanau wastad yn haws nau'u diffordd.



AMCANION:

Rhaglen sy'n seiliedig ar ganlyniadau yw hon.



Fe'i chynlluniwyd i ddysgu pobl ifanc a'u teuluoedd am y peryglon o fod yn anniogel â tân.



Fe'i chynlluniwyd i ddysgu pobl ifanc a'u teuluoedd am effaith a chanlyniad tân.

Dylid llenwi'r daflen waith hon gan y person ifanc, gyda chymorth rhiant neu warchodwr.



RYSAIT AM DÂN

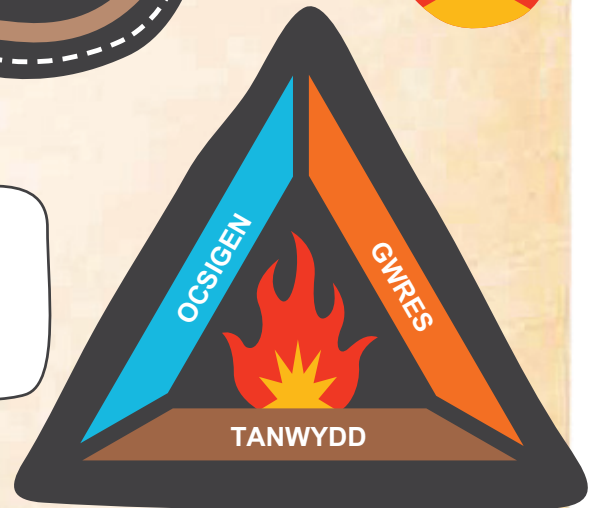
BETH YW TÂN

Adwaith cemegol yw tân sydd angen tri chynhwysyn:



Pan fydd gennym wrthrych a all losgi; gyda'r maint cywir o awyr, a ffynhonnell gwres, cawn dân.

Gelwir hwn yn *driongl tân* gan Ymladdwyr Tân.



C1

Beth yw tân?

C2

Pam fod tân yn beryglus?

C3


Beth sy'n gwneud i chi eisiau cynnau tân?



PA MOR SYDYN GALL TANAU WASGARU?

MAE POB TÂN YN DECHRAU'N FACH. MEWN DIM OND
YCHYDIG O FUNUDAU, GALLANT DYFU'N **DANAU MAWR.**

Llenwch yr amser rydych chi'n credu y byddai'n cymryd i
bob gwrthrych a luniwyd isod losgi.



— eil

Coes Matsien

— mun

Ystafell Wely

— mun

Tŷ

— eil

Bin Sbwriel



MĀE GWIR DĀN YN SYMUD YN **CYFLYM**

Gall tân bach esgyn allan o reolaeth mewn ychydig eiliadau'n unig, ac o fewn munudau, gall tŷ cyfan gynnau tân.




Rhestrwch 4 eitem a all fod wedi'i niweidio yn y tân hwn:

- 1 _____
- 2 _____
- 3 _____
- 4 _____

Lluniwch restr o'r 4 peth na fydech yn dymuno colli mewn tân:

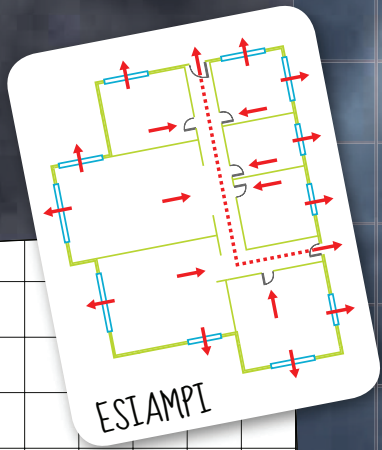
- 1 _____
- 2 _____
- 3 _____
- 4 _____



MAE GWIR DÂN YN DYWYLL

Ydych chi erioed wedi ceisio cerdded drwy eich tŷ yn gwisgo mwgwd neu â'ch llygaid ynghau? Dyna yn union fel y mae hi mewn tân gan fod mwg mor dywyll.

HER CYNLLUN DIANC!
Gan ddefnyddio'r esiampl, tynnwch gynllun llawr o'ch tŷ ar y grid. Rhowch sticeri cyfeiriol yn dangos 3 ffordd o ddianc o'ch tŷ



A large grid area for drawing a floor plan.

Ydy pob person yn eich teulu'n gwybod sut mae dianc pe bai tân yn digwydd? Ydyn Nac Ydyn

YMARFER YMARFER YMARFER

Cofiwch ddangos plant llai yn eich cartref sut i ddianc yn ddiogel. Ymarferwch eich cynllun dianc mewn tywyllwch neu tra'n gwisgo mwgwd.



MWG A Nwyon Yw Gwir Dân

A oeddech chi'n gwybod bod:

- Ni allwch aroglu mwg pan fyddwch yn cysgu?
- Mae mwg o dân yn wenwynig? Pe baech yn ei anadlu, gallwch farw.

Mae larymau mwg yn rhoi rhybudd cynnar i chi os oes mwg neu dân yn eich tŷ.

TICIWCH Y BLWCH CYWIR

C1

Pa mor aml y dylech brofi bod eich larwm mwg yn gweithio?

- Bob dydd
- Bob mis
- Bob wythnos

C2

Lle dylid lleoli larymau mwg?

- Ar wal
- Ym mhob ystafell
- Ar y nenfwd

C3

A ddylech chi fyth dynnu'r batri o'ch larwm mwg a'i ddefnyddio ar gyfer rhywbeth arall?

- Dylwn Nac Dylwn

C4

Mewn tân mewdol, beth sydd fwyaf peryglus?

- Gwres
- Tân
- Mwg

C5

Oes gennych larwm mwg gweithiol gartref?

- Oes Nac Oes

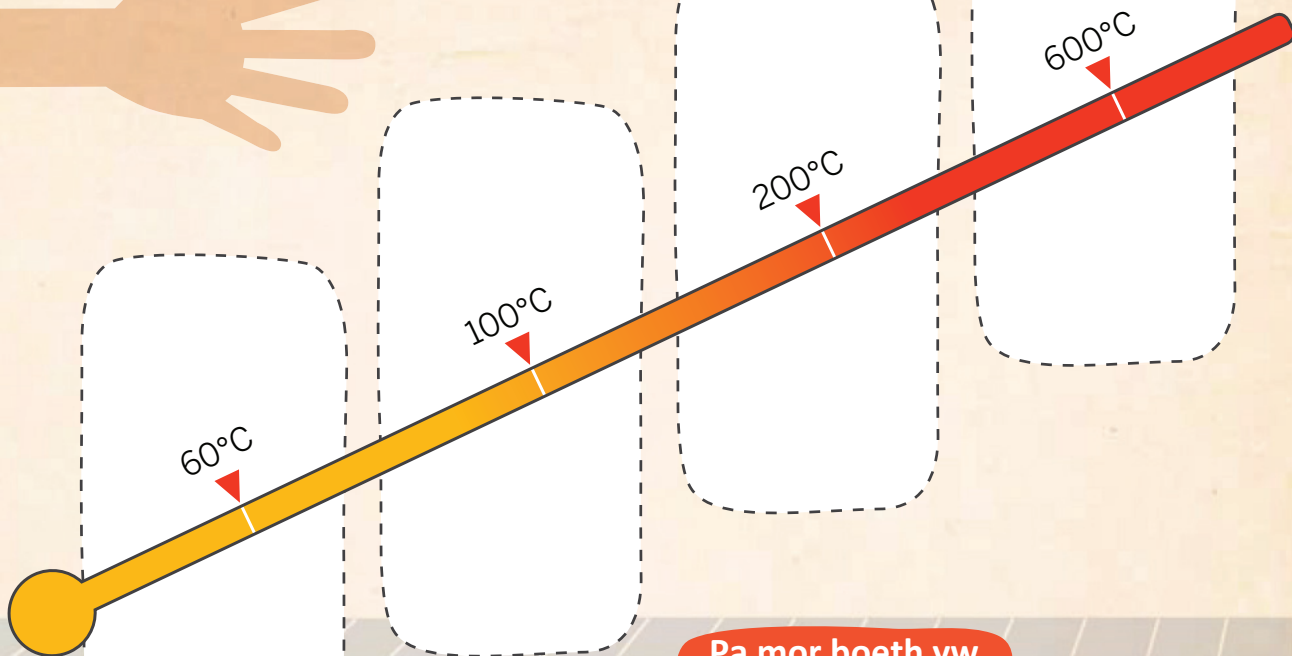
°C

MAE GWIR DÂN YN BOETH!

A OEDDECH YN GWYBOD BOD Y GWRES A DDAW
O DÂN YN FWY PERYGLUS NA'R FFLAMAU?

Gall y tymheredd mewn tân mewn tŷ gyrraedd dros 600°C, sy'n ddigon poeth i doddi eich dillad a llosgi eich croen yn ddifrifol. Mae dŵr yn berwi ar dymheredd o 100°C.

HER TYMHEREDD



**Pa mor boeth yw
'poeth'?**

Gan ddefnyddio'r sticeri a ddarparwyd ar y dudalen ganol, rhowch y sticer cywir yn y man cywir ar y thermomedr?



BETH Y'CH CHI'N FEDDWL?

1

Gadawodd tad Sari sigaret a thaniwr ar y bwrdd. Tra fod Sari yn yr ystafell ar ei phen ei hun, mae'n codi'r taniwr. Mae hi eisiau tro arno i'w danio fel mae ei thad yn gwneud.

Darllenwch y straeon isod. Os ydych yn meddwl y gwnaeth y person yn y stori benderfyniad cywir, rhowch gylch o amgylch ✓. Os ydych yn meddwl y gwnaeth y person ddewis anghywir, rhowch gylch o amgylch ✗.



2

Mae Josh yn eistedd yn ei ystafell wely'n teimlo'n ddiflas. Roedd ei fam yn y gwaith ac roedd ei chwaer fawr yn gwyllo'r teledu yn y lolfa. Penderfynodd Josh weld beth sy'n digwydd pan fydd e'n defnyddio matsis i gynnau hen gylchgrawn.



3

Ffeindiodd David a'i ffrind matsis ar y llawr yng nghartref David. Mae ffrind David wedi cynnu matsis o'r blaen ac mae e am roi cynnig eto. Mae David yn gwybod beth i'w wneud. Mae'n canfod oedolyn ac yn rhoi'r matsis iddyn nhw.



DIWEDDGLO GWELL...

Meddyliwch am y tân yr oeddech chi ynghlwm ag ef.

Pa ddewisiadau cyfrifol fyddwch chi wedi gallu cyflawni?

Ysgrifennwch ddiweddglo gwell i'ch sefyllfa tân.



MAE GAN WIR DÂN GANLYNIADAU



MAE TÂN YN EFFEITHIO LLAWER O BOBL
MEWN LLAWER O WAHANOL FFYRDD

Dychmygwch y llosgwyd eich ysgol i'r llawr.
Disgrifiwch sut y gall yr holl bobl yna gael
eu heffeithio gan hynny.



CYMDOGION



YMLADDWYR TÂN



GWEITHWYR
AMBIWLANS



Y GOFALWR

Four horizontal lines for writing notes.



ATHRAWON

Four horizontal lines for writing notes.



MYFYRWYR



YR HEDDLU

Four horizontal lines for writing notes.



TEULU

Four horizontal lines for writing notes.





GWIR DÂN YN ERBYN TÂN RHITHWIR

Bydd y teledu, gemau cyfrifiadurol a'r rhyngwyd yn dangos delweddau i chi o bobl yn dianc o danau heb ddioddef anafiadau difrifol.

YDYCH CHI 'N MEDDWL FOD HWN YN WIR?

Ydw

Nac Ydw

Pam?



MAE GWIR DÂN YN COSTIO ARIAN GWIRIONEDDOL

1

Dychmygwch eich bod chi a ffrind wedi ennill £400 mewn cystadleuaeth hip hop.

RHOWCH GYLCH ISOD O GWMPAS SUT FYDDWCH CHI 'N GWARIO ARIAN EICH GWOBR.

Tegan £50	Peiriant X-box £400
Sglefr fwrdd £150	ffôn symudol £100
i-pod £300	Gemwaith £50

2

Onid yn ddiweddar, cynheuodd eich ffrind dân mewn bin sbwriel yn nhai bach yr ysgol. Nawr mae angen iddo dalu am y niwed.

Rhowch y sticeri arian cywir ym mhob blwch

	= GLANHAU	£50
	= PAENTIO	£140
	= BIN SBWRIEL	£50
	= FFENEST WYDR	£160

Faint o arian sydd gennych ar ôl?


£ _____

MEWN ARGYFYNGAU, MAE ANGEN HELP AR BOBL YN SYTH

Pa rif dylwn alw os bydd angen gwasanaethau brys arnom?

Mae Tony yn ymffrostio i'w ffrindiau ac yn galw 999. Mae'n dweud wrth y gweithredydd fod tân yn y ganolfan siopa.

Rhowch y sticeri yn y drefn gywir yn y gwagleoedd a ddarparwyd ar y map.



Wrth i'r peiriant tân gyrraedd y ganolfan siopa, mae tân difrifol yn digwydd ochr draw'r dref. Eglurwch pam na all y peiriant tân adael y ganolfan siopa'n syth i fynychu'r tân.

Ydy e'n anghywir i alw 999 a diweddu'r alwad am hwyl? Ydy Nac Ydy Pam?



NAWR MAE E I FYNŶ I CHI!

BETH FYDDECH CHI'N GWNEUD YN Y SEFYLLFA HON?

Ysgrifennwch pa ddewis fyddwch yn ei gymryd o dan bob sefyllfa.


Gwelsoch chi a'ch ffrindiau glîp o blant yn gwneud tric â matsîs ar wefan YouTube. Nawr mae eich ffrindiau chi am wneud un hefyd...

Mae gennych ffrind draw am y prynhawn. Wrth chwarae yn yr ardd, mae e'n dweud wrthy'ch i fynd i'r tîj i ôl matsîs fel y cewch losgi ychydig o ddail...

Rydych chi'n gweld bachgen ifanc yn chwarae â thanîwr sîgarets yn eich stryd...

Rydych chi'n cerdded i mewn i dai bach yr ysgol ac yn gweld bachgen hî'n yn cynnau tân mewn bin sbwriel...

Mae ffrind sy'n hoffi cychwyn tanau eisîau bod yn gwmni i chi...

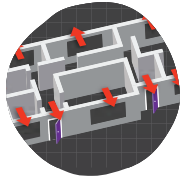


BETH YDYCH CHI WEDI'I DDYSGU?



Beth yw'r tri chynhwysyn sydd eu hangen am dân?

- 1 _____
- 2 _____
- 3 _____



Enwch 3 ffordd i gyrraedd y tu allan os bydd eich tŷ ar dân

- 1 _____
- 2 _____
- 3 _____



Pa mor hir mae e'n cymryd i ystafell wely gynnu?

_____ Mun



Beth ydym yn ei wneud os yw ffrind yn gofyn i ni chwarae â tân?



Pam fod gennym larymau mwg?




Ydy cuddio o dan eich gwely yn ffordd ddiogel o ddianc rhag tân?

Ydy Nac Ydy



Gall tân mewn tŷ fod yn boethach na

_____ °C



TAFLENI STICERI

Temperature scale for hand sanitization:

- 60°C: Water tap icon
- 100°C: Boiling water cup icon
- 200°C: Steam rising from a surface icon
- 600°C: Fire icon

Below each temperature is an illustration of a hand being sanitized, with the intensity of the red color on the hand increasing with temperature.



£ 50 £

£ 20 £

£ 50 £

£ 20 £

£ 50 £

£ 20 £

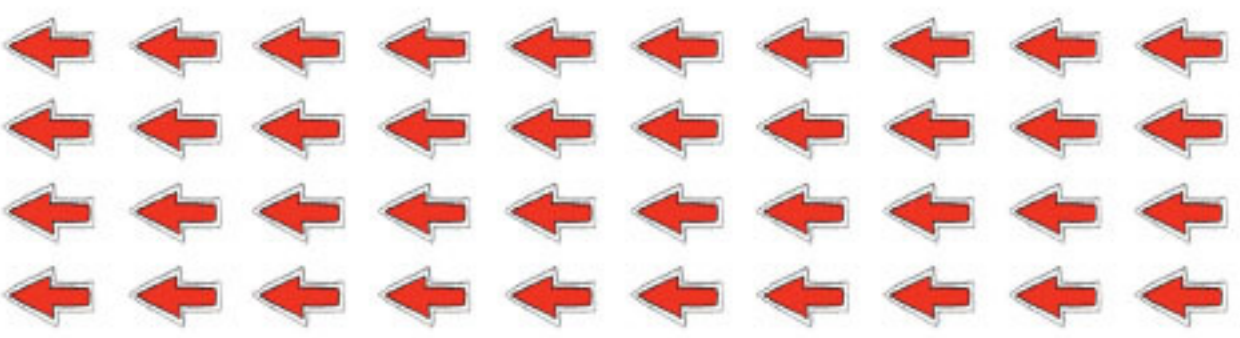

£ 50 £

£ 20 £

£ 50 £

£ 20 £

£ 50 £



Tollod		Ystafell Ymochli		Ystafell Wely		Lofia	
Tollod		Ystafell Ymochli		Ystafell Wely		Lofia	
Ceglin		Ystafell Ymochli		Ystafell Wely		Ystafell Fwyta	
Ceglin		Goroddy		Ystafell Wely		Ystafell Fwyta	
Man Cystarod Diogel		Man Cystarod Diogel		Ystafell Wely		Ystafell Wath	